

Број поена

ШИФРА \_\_\_\_\_

КОМИСИЈА \_\_\_\_\_

# ТЕСТ ЗНАЊА

ЗА VI РАЗРЕД ОСНОВНЕ ШКОЛЕ

## ИСТОРИЈА

ОПШТИНСКО ТАКМИЧЕЊЕ

2014. ГОДИНЕ


### УПУТСТВО ЗА РАД

1. Свако питање пажљиво прочитај да би га потпуно разумео.
2. Ако неко питање не можеш одмах да решиш, не губи време већ пређи на следеће, а касније се врати решавању прескоченог питања.
3. Потруди се да на свако питање одговориш тачно и потпуно.
4. Питања ради самостално и не ометај друге ученике.
5. Израда теста траје 60 минута.

Тест обавезно попуни хемијском оловком, јер се у противном одговори неће признати!

## ШЕСТИ РАЗРЕД ОПШТИНСКО 2014.

1. Пажљиво погледај карту на којој су уцртани градови и одговори на питања која се односе на приказану карту (тачком је приказана позиција града).



А) Који су градови уцртани на карти?  
(сваки град има свој број)

1. \_\_\_\_\_
2. \_\_\_\_\_
3. \_\_\_\_\_
4. \_\_\_\_\_

Б) Који градови су били престонице царстава?

В) Који од уцртаних градови постоје и данас?

2. Пажљиво прочитај објашњење и упиши на који се појам објашњење односи.

1. Наука која се бави рачунањем времена је \_\_\_\_\_
2. Остаци из прошлости који се преносе усменим путем су \_\_\_\_\_
3. Раздобље које почиње важним догађајем је \_\_\_\_\_
4. Раздобље прошлости које почиње открићем писма је \_\_\_\_\_
5. Место где се чувају писана документа и списи је \_\_\_\_\_

3. Писмо је велико и значајно откриће човека. Пажљиво прочитај питања која се односе на историју писма и одговори.

1. У ком миленијуму је откривено прво писмо? \_\_\_\_\_
2. Који народ је први изумео писмо? \_\_\_\_\_
3. Како се зове прво словенско писмо? \_\_\_\_\_
4. Која се два писма данас користе у нашој држави? \_\_\_\_\_

4. Историја Балкана је повезана са историјом многих народа. Пажљиво прочитај и одговори на питања попуњавајући табелу понуђеним појмовима која се односе на историју Балкана (један народ се може појавити у више колона).

**ПОЈМОВИ :** Срби, Илири, Ромеји, Мађари, Авари, Бугари, Хрвати, Румуни, Франци.

Староседеоци Балкана	Словенски и словенизирани народи	Суседи Словена у средњем веку	Народи који су живели на Балкану, а данас их нема под тим именом

5. Средњевековну историју обележило је постојање неколико царстава. Хронолошки поређај време њиховог настанка испишујући бројеве од 1 до 5, почевши од најстаријег.

- \_\_\_\_\_ Српско царство
- \_\_\_\_\_ Бугарско (Симеоново) царство
- \_\_\_\_\_ Византијско царство
- \_\_\_\_\_ Франачко царство
- \_\_\_\_\_ Бугарско (Самуилово) царство

## ШЕСТИ РАЗРЕД ОПШТИНСКО 2014.

6. Од понуђених тврдњи одабери једну која је хронолишки тачна, заокружи слово испред тачног одговора.

- а) Душан је крунисан за цара, проглашење српске патријаршије, доношење Душановог законика.
- б) Проглашење српске патријаршије, Душан је крунисан за цара, доношење Душановог законика.
- в) Душан је крунисан за цара, доношење Душановог законика, проглашење српске патријаршије.
- г) Доношење Душановог законика проглашење српске патријаршије, Душан је крунисан за цара.

7. Наведене су познате личности, хронолишки поређај по времену живота:

(бројем 1 означи личност која је најстарија)

- \_\_\_ Константин Велики
- \_\_\_ Самуило
- \_\_\_ Мухамед
- \_\_\_ Ричард Лавље Срце
- \_\_\_ Атила

8. Заокружите Т ако је исказ тачан, а Н ако је исказ нетачан

- Т Н 1. Пагани су јеретици.
- Т Н 2. Крсташи са Запада учествују у Крсташким ратовима.
- Т Н 3. Средњевековни градови настају на поседу феудалца.
- Т Н 4. Куран је света књига хрушћана .
- Т Н 5. Вазал је био ученик у средњевековној занатској радионици.

9. Повежи родбинске односе међу Немањићима тако што ћеш поред имена синовца уписати име његовог стрица или стричева:


СИНОВАЦ	СТРИЦ или СТРИЧЕВИ
а) Стефан Дечански	
б) Стефан Владислав	
в) Стефан Драгутин	

10. Попуни табелу тачним подацима који недостају:

Владар	Држава/ народ	Време владавине- век	Титула владара
Часлав Клонимировић			
	Византија	VI	
Атила			
	Босна	1190.	

11. Погледај слику и одговори на питања

- 1. Које писмо је приказано на овој слици? \_\_\_\_\_
- 2. Ко је саставио ово писмо? \_\_\_\_\_
- 3. У ком веку је настало ово писмо? \_\_\_\_\_




ШЕСТИ РАЗРЕД ОПШТИНСКО 2014.

12. Пажљиво прочитај тврдње које се односе на Крсташке ратове. Одвој узроке од последица ратова. На линији испред тврдње напиши слово У ако се трдња односи на узрок Крсташких ратова а слово П ако се тврдња односи на последицу Крсташких ратова.

1. \_\_\_\_\_ Тежња за освајањима.
2. \_\_\_\_\_ Пад Византије, освајање Цариграда.
3. \_\_\_\_\_ Борба против неверника.
4. \_\_\_\_\_ Покушај да се ослободи Света земља.
5. \_\_\_\_\_ Стварање крсташких држава на тлу Византије.

13. Пажљиво погледај слике манастира и одговори на постављена питања која се односе на ктитора манастира и владаре који се владали пре и после владавине ктитора.



А) 1. Пуно име ктитора

2. Пуно име његовог претходника

3. Пуно име његовог наследника

Б) 1. Пуно име ктитора

2. Пуно име његовог претходника

3. Пуно име његовог наследника

В) 1. Пуно име ктитора

2. Пуно име његовог претходника


3. Пуно име његовог наследника

14. Пажљиво погледај слике које су симболи вере и одговори на питања:

1. Којој вери симбол припада?
2. Како се зову верници који исповедају ту веру?
3. Како се назива грађевина у којој исповедају веру?



1. \_\_\_\_\_
2. \_\_\_\_\_



1. \_\_\_\_\_
2. \_\_\_\_\_
3. \_\_\_\_\_



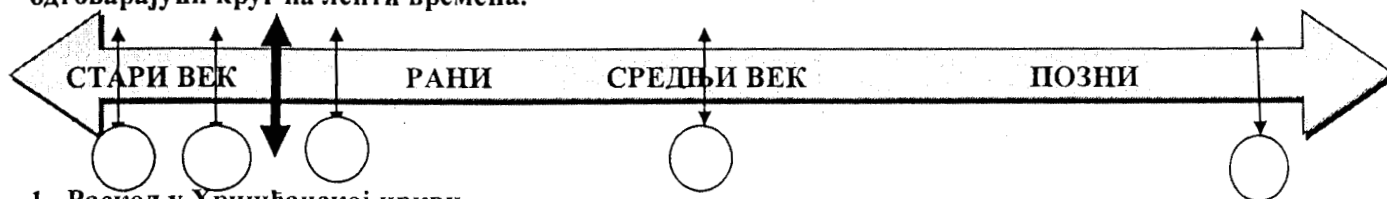
1. \_\_\_\_\_
2. \_\_\_\_\_
3. \_\_\_\_\_

А)

Б)

В)

15. На ленти времена прикажи хронолошки распоред догађаја, уписујући број испред догађаја у одговарајући круг на ленти времена.



1. Раскол у Хришћанској цркви.
2. Владавина цара Јустинијана.
3. Оснивање Цариграда.
4. Подела Римског царства.
5. Пад Источног римског царства.

Број питања	ОДГОВОРИ И БОДОВАЊЕ				Бодови
1.	А) 1. Рим 2. Цариград(Константинопољ ) 3. Јерусалим 4. Мека све тачно 1 бод Б) Рим и Цариград (Константинопољ ) све тачно 1 бод В) сви градови и ако наброји све тачно 1 бод				3
2.	1. Хронологија 2. Народно ( усмено) предање традиција (прознати тачне варијанте одговора) 3. ера 4. Историја 5. архиви				1+1+1+1 укупно 5
3.	1. 4. миленијум 2. Сумерци 3. глагољица 4. Латиница и ћирилица				1+1+1+1 укупно 4
4.	Староседеоци: Илири и Ромеји (1) Словени и словенизитани: Срби, Бугари, Хрвати (1) Суседи: Мађари, Авари, Румуни, Франци, Ромеји (1) Данас их нема на Балкану: Илири, Ромеји, Авари (1)				За сваку тачну колону по 1 1+1+1+1 укупно 4
5.	5 3 1 2 4				3/0
6.	б)				1
7.	1 4 3 5 2				3/0
8.	Н Т Т Н Н				1+1+1+1+ 1 укупно 5
9.	а) (Стефан) Драгутин б) Вукан и Св. Сава в) (Стефан)Радослав и (Стефан)Владислав,(Предислав, Сава II )				1+1+1 укупно 3
10.	Владар	Држава/ народ	Време	Титула владара	1+1+1+1
		Рашка (Србија)	X век	Кнез	укупно 4 само потпуно
	Јустинијан			Цар	тачна колона
		Хуни	V век	Каган, кан (хан)	носи бод
	Кулин			Бан	
11.	1. Глагољица 2. Константин (Ћирило и Методије) 3. IX век				1+1+1 укупно 3
12.	У, П, У, У, П				2/0
13.	А) 1. Стефан Владислав 2. Стефан Радослав 3. Стефан Урош I (1/0) Б) 1. Стефан Немањић (Првовенчани) 2. Стефан Немања 3. Стефан Радослав (1/0) В) 1. Стефан Урош I 2. Стефан Владислав 3. Стефан Драгутин (1/0)				1+1+1 укупно 3
14.	А) 1. Јудаизам 2. Јевреји (1/0) Б) 1. Хришћанство 2. Хришћани 3. Црква( катедрала, манастир) (1/0) В)1. Ислам 2. Муслимани 3. Џамија (1/0)				1+1+1 укупно 3
15.	3, 4, 2, 1, 5				2/0
Прво место: 46-48 Друго место: 45-43 Треће место: 38-42					Укупно 48
НА ОКРУЖНО (ГРАДСКО) ТАКМИЧЕЊЕ ПЛАСИРАЛИ СУ СЕ УЧЕНИЦИ КОЈИ ИМАЈУ 38 И ВИШЕ ПОЕНА.					