

ШЕСТИ РАЗРЕД ОПШТИНСКО ТАКМИЧЕЊЕ 2017.

Број поена

ШИФРА

КОМИСИЈА

# ТЕСТ ЗНАЊА

ЗА VI РАЗРЕД ОСНОВНЕ ШКОЛЕ

## ИСТОРИЈА

ОПШТИНСКО ТАКМИЧЕЊЕ

2017. ГОДИНЕ

## УПУТСТВО ЗА РАД

1. Свако питање пажљиво прочитај да би га потпуно разумео.
2. Ако неко питање не можеш одмах да решиш, не губи време већ пређи на следеће, а касније се врати решавању прескоченог питања.
3. Потруди се да на свако питање одговориш тачно и потпуно.
4. Питања ради самостално и не ометај друге ученике.
5. Израда теста траје 60 минута.
6. Тест садржи петнаест питања.
7. Употреба мобилног телефона је забрањена.
8. Писање личних података или било чега другог на тесту је забрањено.

Тест обавезно попуни хемјјском оловком, јер се у противном одговори неће признати!



## ШЕСТИ РАЗРЕД ОПШТИНСКО ТАКМИЧЕЊЕ 2017.

1. Број испред понуђеног појма упиши на одговарајуће место на карти и ако је град обележи бројем и тачком.



1. место пролаза Хуна у Европу
2. седиште цара Западног Римског Царства
3. Праностојбина Словена

2. Пажљиво прочитај објашњење и упиши на који се појам објашњење односи.

1. Он крунише цара у Византији. \_\_\_\_\_
2. Он је оснивач вере настале на Арабијском полуострву. \_\_\_\_\_
3. Град који је основао творац Миланског едикта. \_\_\_\_\_
4. Германски народ који је државу основао у Африци \_\_\_\_\_

3. Наведене догађаје уредите по хронолошком реду:

(бројем 1 означи догађај који се први догодио)

- \_\_\_ постанак Западног Римског Царства
- \_\_\_ одвајање српске епископије од охридске архиепископије
- \_\_\_ настанак најстаријег српског данас сачуваног ћириличног документа
- \_\_\_ почета владавине цара чија је престоница била у Призрену
- \_\_\_ нестанак државе коју је основао Хлодовех

4. Заокружите Т ако је исказ тачан, а Н ако је исказ нетачан.

- |  |   |   |
|--|---|---|
| а) Универзитет је скуп више факултета.                     | Т | Н |
| б) Центар Млетачке републике је Милано.                    | Т | Н |
| в) Карло Велики је први хришћански владар Франачке државе. | Т | Н |
| г) Романика је један од стилова градње код муслимана.      | Т | Н |

5. Од понуђених народа подвуци оне који су ратовали против Византије после VI века.

Пољаци, Мађари, Англи, Бугари, Хуни, Авари, Срби

6. Од понуђених комбинација одабери једну која је хронолошки тачна, заокружи број испред тачног одговора.

1. Зидане Милешеве – Зидане у Сопотана – Зидане у Студенице.
2. Зидане у Студенице – Зидане у Сопотана – Зидане Милешеве.
3. Зидане у Студенице – Зидане Милешеве – Зидане у Сопотана
4. Зидане у Сопотана – Зидане Милешеве – Зидане у Студенице.




## ШЕСТИ РАЗРЕД ОПШТИНСКО ТАКМИЧЕЊЕ 2017.

7. Поред догађаја упиши годину:

- |   |              |
|---|--------------|
| а) Један Србин је по први пут крунисан краљевском круном. | _____ године |
| б) Један Србин је крунисан двоструком круном.             | _____ године |
| в) Један Србин је по први пут крунисан царском круном.    | _____ године |

8. Пажљиво погледај слике манастира и одговори на питања.

- а) Који је манастир на слици?
- б) Ко је ктитор манастира?
- в) Коју су владарске титуле носили сину/ синови ктитора?



1. а) \_\_\_\_\_  
 б) \_\_\_\_\_  
 в) \_\_\_\_\_

2. а) \_\_\_\_\_  
 б) \_\_\_\_\_  
 в) \_\_\_\_\_

9. Како се називају заповедници манастира:

1. Код католика \_\_\_\_\_
2. Код православаца \_\_\_\_\_

10. Пажљиво прочитај тврдње и издвој оне које се односе на владавину Карла Великог. Заокружи само број испред тврдњи које се односе на владавину Карла Великог.

1. Његова држава се на истоку протирала до Солуна.
2. Ратовао је против Визигота.
3. Носио је само царску круну.
4. Био је хришћанин.
5. Знамо како је изгледао.

11. Попуни табелу сврставајући понуђене појмове:

цар, власи, кмет, тема, пронија, себри, меропси, сабор

државно уређење	друштвено уређење



# ШЕСТИ РАЗРЕД ОПШТИНСКО ТАКМИЧЕЊЕ 2017.

12. Погледај карту и одговори на питања.



1. Који је догађај приказан на карти? \_\_\_\_\_
2. Наведи векове када се одиграо? \_\_\_\_\_
3. Који град је био циљ ратовања? \_\_\_\_\_

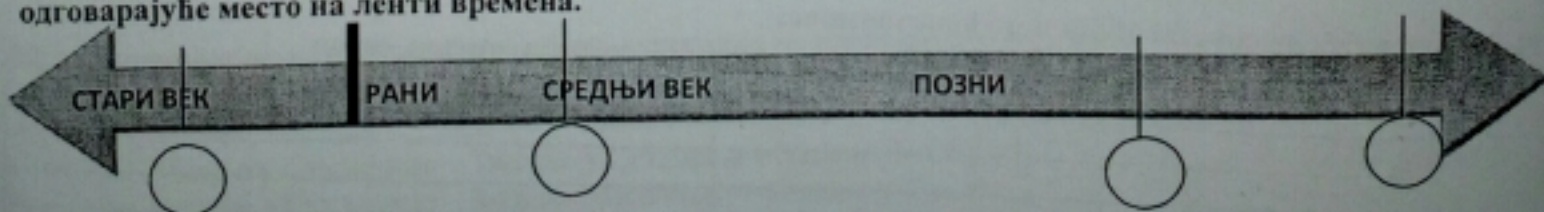
13. Повежи личности и догађаје. Број испред имена личности упиши на линију испред догађаја.

- |                        |                                   |
|------------------------|-----------------------------------|
| 1. Властимир           | а) _____ устанци против Византије |
| 2. Часлав Клонимировић | б) _____ оснивач династије        |
| 3. Стефан Војислав     | в) _____ рат против Мађара        |

14. Попуни табелу:

Владар	Држава	Век(векови) владавине
Самуило		
Симеон		
Јустинијан		


15. На ленти времена прикажи хронолошки распоред догађаја, уписујући број испред догађаја на одговарајуће место на ленти времена.



1. Настајак универзитета
2. Арабљани освајају Шпанију
3. Срби добијају први законик.
4. Подела римског царства



КЉУЧ ОПШТИНСКО ТАКМИЧЕЊЕ ШЕСТИ РАЗРЕД 2017.

1.		2/0												
2.	1.ПАТРИЈАРХ 2.(ПРОРОК) МУХАМЕД 3. КОНСТАНТИНОПОЛИС(ЦАРИГРАД) 4.ВАНДАЛИ	4 бода												
3.	1 4 3 5 2	3/0												
4.	Т Н Н Н	4												
5.	Мађари, Бугари, Авари, Срби (ако подвуче један погрешан 0 бодова)	1 сви народи 1 бод												
6.	3.Зидање у Студенице – Зидање Милешеве – Зидање у Сопотана	1 бод												
7.	а) 1077. године б) 1377. године в) 1346.године	1+1+1 укупно 3												
8.	1. а) Дечани б) Стефан Дечански в) Краљ и цар 2. а) Хиландар б) (Св.Сава), Стефан Немања в) велики жупан и краљ	све тачно под 1. један бод. све тачно под 2. један бод укупно 2 бода												
9.	1. опат 2. игуман	1/0 оба тачна један број												
10.	4,5	1/0												
11.	државно уређење-цар, тема, промија, сабор друштвено уређење-кмет, себри, меропси, власи	тачна вертикала у табели 1 бод укупно 2 бода												
12.	1.крсташки ратови 2.11,12,13 3.Јерусалим	1+1+1 укупно 3												
13.	1-б,2-в,3-а	2/0												
14.	<table border="1" data-bbox="240 1535 1125 1699"> <thead> <tr> <th>Владар</th> <th>Држава</th> <th>век владавине</th> </tr> </thead> <tbody> <tr> <td>Самуило</td> <td>Бугарска</td> <td>10-11.</td> </tr> <tr> <td>Симеон</td> <td>Бугарска</td> <td>9-10.</td> </tr> <tr> <td>Јустинијан</td> <td>Византија</td> <td>6.</td> </tr> </tbody> </table>	Владар	Држава	век владавине	Самуило	Бугарска	10-11.	Симеон	Бугарска	9-10.	Јустинијан	Византија	6.	тачна хоризонтала у табели 1 бод укупно 3 бода
Владар	Држава	век владавине												
Самуило	Бугарска	10-11.												
Симеон	Бугарска	9-10.												
Јустинијан	Византија	6.												
15.	потребно је написати у кругове редом бројеве 4,2,1,3 (ако се заокружи један погрешан 0 бодова)	2/0 сва четири тачно уписана 2 бода												
	Прво место од 34-33 Друго место 32-30 Треће место 29- 27 НА ОКРУЖНО (ГРАДСКО ТАКМИЧЕЊЕ ПЛАСИРАЛИ СУ СЕ УЧЕНИЦИ КОЈИ ИМАЈУ 27 И ВИШЕ ПОЕНА)	укупно бодова 34												